

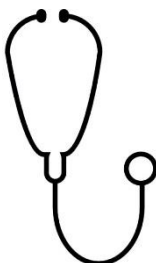


TÉCNICO EM ENFERMAGEM

04/12/2022



DISCIPLINAS	QUESTÕES
Língua Portuguesa	1 a 10
Matemática e Raciocínio Lógico	11 a 20
Noções de Informática	21 a 25
Legislação Aplicada ao Serviço Público Federal	26 a 30
Conhecimentos Específicos	31 a 50

SÓ ABRA ESTE CADERNO QUANDO FOR AUTORIZADO

LEIA COM ATENÇÃO AS INSTRUÇÕES:

- 1) Quando for permitido abrir o caderno de provas, verifique se ele está completo ou se apresenta imperfeições gráficas que possam gerar dúvidas. A prova é composta de **50 questões** de múltipla escolha. Cada questão apresenta cinco alternativas de respostas, das quais apenas uma é a correta.
- 2) O cartão-resposta é personalizado e não será substituído em caso de erro no preenchimento. Ao recebê-lo, confira se seus dados estão impressos corretamente. Se houver erro, notifique-o ao aplicador de prova.
- 3) O único documento válido para a correção é o cartão-resposta. Preencha o alvéolo do cartão integralmente, rigorosamente dentro de seus limites e sem rasuras, utilizando caneta de tinta AZUL ou PRETA, fabricada em material transparente. A questão deixada em branco, com emenda, corretivo, rasura ou com mais de uma marcação, terá pontuação zero.
- 4) Esta prova terá quatro horas de duração, incluídos, nesse tempo, os avisos e a transcrição das respostas para o cartão-resposta.
- 5) Iniciada a prova, você somente poderá retirar-se do ambiente de realização da prova após decorridas duas horas de seu início e mediante autorização do aplicador de prova, sendo permitido levar o caderno de questões. É vedado sair da sala com quaisquer anotações, antes deste horário.
- 6) Os três últimos candidatos, ao terminarem as provas, deverão permanecer no recinto, sendo liberados após a entrega do material utilizado por todos eles, e terão seus nomes registrados em Relatório de Sala, no qual irão colocar suas respectivas assinaturas. Caso o candidato se recuse a permanecer na sala, o mesmo será eliminado do concurso.

LÍNGUA PORTUGUESA**TEXTO PARA AS QUESTÕES 1 A 6****CATHARINA MINA: UMA LIBERTA AFRICANA EM
SÃO LUÍS NO SÉC. XIX***Iraneide Soares da Silva*

Nesta segunda década do século XXI, em que as memórias negras precisam ser (e vem sendo) cada vez mais evidenciadas, fomos buscar nas histórias de mulheres negras que viveram no Brasil dos séculos XVIII e XIX. Mulheres essas que só aparecem de relance na historiografia e que nunca, ou quase nunca, chegaram às salas de aula da Educação Básica ou do Ensino Superior. Nossos achados históricos perpassam seis importantes mulheres negras: Esperança Garcia (1751), Maria Firmina dos Reis (1825), Catharina Rosa Ferreira de Jesus (séc. XIX), Mariana Gonçalves da Luz (1871) e Laura Rosa (1884). Para este artigo, destacamos Catharina Rosa Ferreira de Jesus, ou apenas Catharina Mina.


A cidade de São Luís, entre rios e dentro do mar, forma a ilha de São Luís, território de grande disputa por franceses e portugueses no período colonial, e que se tornou a capital do Maranhão. Como no resto do Brasil, era uma cidade escravista e estava vinculada ao continente africano pelo tráfico atlântico, sobretudo a partir da segunda metade do século XVIII e início do XIX, com a criação e atuação da Companhia Geral de Comércio do Grão-Pará e Maranhão (1755). A capital maranhense era um território de estrangeiros, com forte presença de trabalhadores escravizados africanos que chegavam continuamente ao porto, como os do “grupo de procedência” da Costa da Mina, nos atuais Togo, Benim e Nigéria.

Nessas “chegadas” forçadas, conjectura-se que Catharina Rosa Pereira de Jesus, a “Catharina Mina”, tenha ancorado no porto de São Luís na primeira metade do século XIX. Sua memória continua presente no centro histórico ludovicense onde há, por exemplo, uma placa que indica o “Beco da Catharina Mina” e, nas proximidades da rua, existe também um empreendimento comercial em sua homenagem, o “Bar da Catharina Mina”, fundado em 1989. Mas quem foi essa mulher? Qual foi sua marca de distinção numa multidão de homens escravizados em província do extremo norte do Império brasileiro?



Representação de Catharina Rosa Ferreira de Jesus. Beco da Catharina Mina, São Luís-MA, 31 de outubro de 2020. Fonte: site da TV Mirante.

No tempo presente, ela é caracterizada como uma africana liberta e quituteira. Ressalta-se, ainda, a sua beleza e a capacidade de resistir contra o sistema escravista, pois além de sua liberdade, comprou as alforrias de outros escravizados em razão de seus trabalhos e das relações estabelecidas com indivíduos da elite maranhense. Ela também conseguiu ser uma pessoa de influência naquela sociedade. Entretanto, a sua trajetória de vida tem sido pouco divulgada pela historiografia. Com o acesso a documentos sobre sua vida, depositados no Arquivo Público do Tribunal de Justiça do Maranhão (APTJMA), ampliaram-se um pouco mais as informações sobre sua experiência e suas redes de sociabilidade.



Fragmento do Testamento de Catharina Rosa Ferreira de Jesus – Catharina Mina. Arquivo Público do Tribunal de Justiça do Maranhão – APTJMA, São Luís-MA, documento de 29 de junho de 1886. Fonte: acervo do APTJMA.

Ao analisar as fontes que tratam dessa personagem, encontrou-se a Catharina mulher, não somente a rica ou a boa cozinheira, mas a “Catharina Rosa Pereira de Jesus” que se dizia de “nação Mina”. A escrita do seu testamento, como era comum na época, ficou sob a responsabilidade de alguém da sua confiança. Assim começa a narrativa descrita desse registro: “Eu, Catharina Rosa Ferreira de Jesus achando-me adoentada, mas no meu perfeito juízo e entendimento, tenho resolvido fazer as minhas últimas disposições testamentárias, pelo modo seguinte: Declaro que sou christã e cathólica apostólica romana, da nação Mina”.

Catharina se apresenta como uma mulher africana, de nação Mina, católica, inserida nos padrões da sociedade vigente do final do século XIX, mas com bens, razão pela qual houve a produção do testamento. A narrativa existente é de que ela trabalhou como quituteira desde muito jovem nas ruas de São Luís do Maranhão. Desse comércio urbano, juntou pecúlio para a compra de sua alforria e conseguiu, ao longo do tempo, adquirir alguma riqueza.

Catharina declarou também ser solteira e “sem herdeiro algum necessário, sendo-me, portanto, livre dispor de todos os bens que possuo”. Seguindo a leitura do documento disponível no APTJMA, verifica-se que ela foi mãe e que seu rebento havia falecido. As declarações do testamento, além de revelarem sua vivência na maternidade, estabelecem o desejo de conectar-se com seu descendente, pois orientam para que seu corpo fosse enterrado “em catacumba e que findo o prazo de três anos, sejam os meus restos mortais trasladados para o jazido que tenho na igreja de Santo Antônio desta cidade, onde estão os do meu filho Pedro”.

Catharina solicitava um enterro simples e discreto: “[...] quero que o meu *enterro* e *sufrágios* se façam a vontade de meus testamenteiros, todavia lhes *recomendo* que sejam com *decência*, mas sem pompa, e que no sétimo dia do meu falecimento quero que se diga por minha alma, se distribua a quantia de cinquenta mil reis (50\$000) em esmolas e quinhentos reis pelos pobres que comparecerem...”. Catharina não deixou de registrar sua estreita relação com a Igreja Católica e anunciou a distribuição de “esmolas” aos pobres, praticando a caridade, conforme os princípios cristãos. Também conferiu a “plena liberdade a todos os meus escravos sem condição alguma servindo-lhes esta verba de título”.

Com relação aos seus herdeiros e herdeiras, ela disse ter como afilhada “Dona Esmeralda Jaufret, filha do Doutor José Ricardo Jaufret, falecido” e “Meu afilhado Doutor Alfredo Rapozo Barradas, filho do Doutor Desembargador Joaquim da Costa Barradas”. Esses afilhados, pessoas brancas e abastadas, faziam parte das redes de sociabilidade e amizade de Catharina Mina. Ademais, além desses, outros, como amigos e pessoas escravizadas sob sua posse, foram beneficiados com os bens obtidos por seu

trabalho como pequena comerciante nas ruas são-luisenses.

Com a análise do testamento de Catharina Mina, compreende-se sua importância na memória da cidade de São Luís, sobretudo por se tratar de uma mulher negra que viveu nos espaços urbanos da capital maranhense em tempos de escravidão, no século XIX, um período marcado por adversidades sociais: pelo racismo, sexismo e discriminações de toda a ordem. Ademais, a história e a memória de Catharina Mina nos faz perceber a dimensão que muitos homens negros e mulheres negras, trabalhadores e trabalhadoras nas mais diversas condições jurídicas, tinham de articulação e, de certa forma, domínio no sentido de conhecimento da dinâmica histórica, cultural e social das cidades escravistas brasileiras.

Enfim, Catharina Mina ultrapassou alguns limites do escravismo, contrariando o pensamento e a cultura da passividade feminina. Nas muitas dinâmicas desses mundos urbanos escravistas nas Américas, mulheres como Catharina Mina abriram brechas e fortaleceram laços a partir de suas vivências socioculturais como trabalhadoras, escravizadas e libertas, nos espaços públicos da cidade, fazendo história e tornando-se referência em uma memória de resistência e luta para as gerações futuras. Nesses espaços, elas fincaram presenças e (re)invenções culturais que atravessaram o tempo. No caso de Catharina Mina, sua trajetória como ex-escravizada continua sendo lembrada em São Luís, inclusive em decorrência de sua resistência e coragem, fatores que a mantêm viva na memória cotidiana da capital maranhense no século XXI.

Adaptado de:

<https://www.geledes.org.br/catharina-mina-uma-liberta-africana-em-sao-luis-no-sec-xix/>
Acessado em 20/09/2022

QUESTÃO 1: Na oração “Enfim, Catharina Mina ultrapassou alguns limites do escravismo, contrariando o pensamento e a cultura da passividade feminina.”, o elemento destacado tem valor de:

- a) Explicação.
- b) Consequência.
- c) Conclusão.
- d) Temporalidade.
- e) Resumo.

QUESTÃO 2: A função das aspas duplas no parágrafo abaixo é, respectivamente:

Nessas “chegadas” forçadas, conjectura-se que Catharina Rosa Pereira de Jesus, a “Catharina Mina”, tenha ancorado no porto de São Luís na primeira metade do século XIX.

- a) Ironia; destaque.
- b) Sinalização de discurso direto; destaque.
- c) Destaque; citação.
- d) Uso de gíria; destaque.
- e) Destaque; estrangeirismo.

QUESTÃO 3: A função do sinal de dois-pontos no parágrafo abaixo é de:

Com a análise do testamento de Catharina Mina, compreende-se sua importância na memória da cidade de São Luís, sobretudo por se tratar de uma mulher negra que viveu nos espaços urbanos da capital maranhense em tempos de escravidão, no século XIX, um período marcado por adversidades sociais: pelo racismo, sexismo e discriminações de toda a ordem.

- a) Enumerar.
- b) Anteceder uma citação.
- c) Introduzir um exemplo.
- d) Introduzir um esclarecimento.
- e) Introduzir uma fala.

QUESTÃO 4: De acordo com a autora,

- a) é preciso manter viva a memória das mulheres negras no Brasil, principalmente durante os anos do Ensino Médio.
- b) No Maranhão prevalece a crença de que as mulheres negras tenham sido passivas durante os séculos de escravização oficial no Brasil.
- c) A importância de apresentar mulheres negras como Catharina Mina é criar referência em uma memória de resistência e luta para as gerações futuras.
- d) Não havia articulação ou conhecimento da dinâmica histórica, cultural e social das cidades escravistas brasileiras.
- e) A pesquisa sobre mulheres como Catharina Mina comprova que não há racismo estrutural no Brasil.

QUESTÃO 5: "Esses afilhados, pessoas brancas e abastadas, faziam parte das redes de sociabilidade e amizade de Catharina Mina."

Pode-se encontrar o mesmo uso da vírgula do período acima em:

- a) Catharina se apresenta como uma mulher africana, de nação Mina, católica, inserida nos padrões da sociedade vigente do final do século XIX (...).
- b) Ao analisar as fontes que tratam dessa personagem, encontrou-se a Catharina mulher.
- c) Com a análise do testamento de Catharina Mina, compreende-se sua importância na memória da cidade de São Luís, sobretudo por se tratar de uma mulher negra (...).
- d) Nesses espaços, elas fincaram presenças e (re)invenções culturais que atravessaram o tempo.
- e) No caso de Catharina Mina, sua trajetória como ex-escravizada continua sendo lembrada em São Luís, inclusive em decorrência de sua resistência e coragem, fatores que a mantêm viva

na memória cotidiana da capital maranhense no século XXI.

QUESTÃO 6: Pode-se afirmar que o principal objetivo comunicativo do texto é:

- a) Abordar, de forma crítica, a escravidão de pessoas africanas no Brasil.
- b) Refletir sobre a relação entre a escravidão e a religião católica no Brasil.
- c) Enaltecer a mulher negra.
- d) Apresentar parte da história social da cidade de São Luís.
- e) Apresentar brevemente a história da personagem negra Catharina Mina.

TEXTO PARA AS QUESTÕES 7 A 10

DA PRÓXIMA VEZ, SÓ CASO SE FOR COM MULHER

Iana Villela


Eu ando cansada do discurso "próxima vez, só caso se for com mulher", comum nas mesas de bares ou conversas de WhatsApp entre amigas, quando as reclamações sobre os comportamentos dos maridos e namorados viram coro em dó maior.

Se relacionar com mulheres não é reabilitação para corações traumatizados, para parcerias domésticas, de carga mental. O único motivo para casar com uma mulher deve ser sentir tesão e se apaixonar por outra mulher.

Esse discurso, com ares progressista, é reprodução homossexual dos relacionamentos hétero-patriarcais: esperar cuidado e compreensão somente das mulheres.

A desvalorização crassa da paixão que mulheres bis e gays sentem umas pelas outras também bate com o pé na quina da ideia de "prêmio de consolação", do relacionamento existir por não ter aparecido nada melhor. Esse

discurso, inclusive, é alicerce da invisibilização desse tipo de amor, muitas vezes chamado de fase. Ou de crimes como o estupro corretivo, a ideia que uma mulher sente desejo por outra porque não teve o devido contato com um pênis competente.



É compreensível a decepção que mulheres hétero e bissexuais vivem na maioria dos relacionamentos com homens. Cada louça na pia, data importante negligenciada ou inabilidade emocional é um post-it imaginário colado em nossa testa, lembrando a solidão na vida familiar.

A instituição casamento, como existe hoje, é comprovadamente mais vantajosa para eles. O Instituto de Estudos da Família, nos EUA, publicou uma pesquisa apontando que homens casados têm salários maiores e vivem até 10 anos mais que os solteiros. A conclusão dizia que o preconceito com casamento, a história do *game over* repetida à exaustão em bares masculinos, precisava acabar.

Em nenhum momento é iluminada a gaveta escura onde se agita a sobrecarga feminina. Nossa insatisfação, embora pouco visível, é bem fundamentada, afinal, quem marca os médicos, lembra de exames, cuida da alimentação e filhos desses homens longevos e bem-sucedidos? É aceitável querer viver uma experiência igualitária, ainda assim, o nosso descanso não está na troca de gênero, até porque não estamos falando de escolhas. O que precisamos é de modelos novos de relacionamento.

Se relacionar é caminhar junto em busca constante pelo equilíbrio, ora pendendo para um

lado, ora para o outro. Parceira nenhuma merece o peso de ser um divã sentimental para outra pessoa se deitar confortavelmente. Nem as casadas com homens, nem com mulheres.

Adaptado de:

<https://revistatrip.uol.com.br/tpm/da-proxima-vez-so-caso-se-for-com-mulher>

Acessado em 27/09/2022

QUESTÃO 7: A função dos dois-pontos no período abaixo é de:

"Esse discurso, com ares progressista, é reprodução homossexual dos relacionamentos hétero-patriarcais: esperar cuidado e compreensão somente das mulheres."

- a) Apresentação.
- b) Explicação.
- c) Enumeração.
- d) Repetição.
- e) Ampliação de sentido.

QUESTÃO 8: Qual a figura de linguagem utilizada no trecho destacado em negrito?

"Esse discurso, inclusive, é alicerce da invisibilização desse tipo de amor, muitas vezes chamado de fase. Ou de crimes como o estupro corretivo, **a ideia que uma mulher sente desejo por outra porque não teve o devido contato com um pênis competente.**"

- a) Metáfora.
- b) Oxímoro.
- c) Ironia.
- d) Metonímia.
- e) Comparação.

QUESTÃO 9: O principal objetivo comunicativo do texto é:

- a) Abordar as relações homossexuais entre mulheres.
- b) Explicitar os problemas psicológicos enfrentados pela população LGBTQIA+.
- c) Refletir sobre os efeitos do patriarcado nas relações afetivas de mulheres.
- d) Apresentar perspectivas heteronormativas de relacionamento.
- e) Refletir sobre as relações afetivas de grupos heterossexuais no Brasil.

QUESTÃO 10: No trecho abaixo, é correto afirmar sobre a função do ponto de interrogação:

“Em nenhum momento é iluminada a gaveta escura onde se agita a sobrecarga feminina. Nossa insatisfação, embora pouco visível, é bem fundamentada, afinal, quem marca os médicos, lembra de exames, cuida da alimentação e filhos desses homens longevos e bem-sucedidos?”

- a) Expor uma dúvida da autora.
- b) Fazer uma pergunta ao leitor.
- c) Questionar o patriarcado.
- d) Expressar descontentamento.
- e) Provocar uma reflexão.

MATEMÁTICA E RACIOCÍNIO LÓGICO

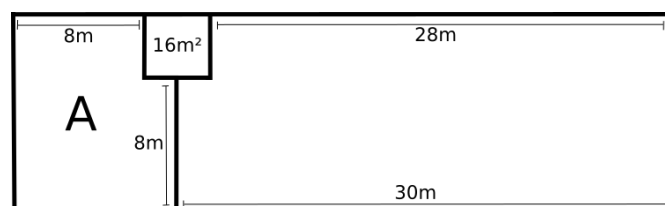
QUESTÃO 11: Quando André sai de casa pela manhã sua calçada ou está molhada, ou está seca. Considere a seguinte proposição:

Se chove à noite, então a calçada de André estará molhada pela manhã.

Qual dos itens a seguir está coerente com a proposição supracitada?

- a) Se a calçada de André está molhada pela manhã, então choveu à noite.
- b) Se a calçada de André está seca pela manhã, então não está chovendo pela manhã.
- c) Se está chovendo pela manhã, então a calçada de André está molhada pela manhã.
- d) Se faz sol pela manhã, então a calçada de André está seca pela manhã.
- e) Se a calçada de André está seca pela manhã, então não choveu à noite.

QUESTÃO 12: Um terreno retangular com 12m de largura e 40m de comprimento é dividido segundo a figura abaixo:



Desse modo, qual porcentagem da área total é ocupada pela região **A** à esquerda?

- a) 20,02%
- b) 23,33%
- c) 26,62%
- d) 27,78%
- e) 25,55%

QUESTÃO 13: Sabendo que a propagação de um fungo que é comum em árvores de uma determinada região da floresta amazônica é modelada pela função:

$$f(t) = 2^{(at+b)},$$

onde t é medido em meses. Sabendo que no primeiro dia foi observado uma região de $1/64$ km² habitada pelo fungo e que no fim do primeiro mês de observação a região habitada foi de 1km². Determine o valor de $-ab$.

- a) 64
- b) -64
- c) 16
- d) -16
- e) 36

QUESTÃO 14: Para perder 1kg de gordura, é necessário queimar 7Kcal. Em 15 dias de treino, treinando 20min por dia, José queimou 6Kcal. Mantendo o mesmo treino, quantos minutos José ainda precisa treinar para completar uma perda de 1kg de gordura?

- a) 45min.
- b) 50min.
- c) 55min.
- d) 60min.
- e) 65min.

QUESTÃO 15: Em uma sala com 30 alunos, sabemos que 8 não ficaram de recuperação em física, 13 não ficaram de recuperação em matemática e apenas 4 não ficaram de recuperação em nenhuma das duas disciplinas. Quantos alunos ficaram de recuperação em matemática e em física?

- a) 19
- b) 17
- c) 15
- d) 13
- e) 11

QUESTÃO 16: O crescimento de uma cultura de bactérias é definido como o aumento do número de bactérias em uma população. Tal crescimento ocorre de maneira exponencial e o tempo, em horas, necessário para a formação de uma geração é determinado por

$$t = \frac{3.3 \log_{10} \left(\frac{b}{B} \right)}{n}$$

onde n é o número de gerações, b o número de bactérias na última observação, B o número de bactérias na primeira observação. Sabendo que um biomédico anotou os seguintes dados: $b = 1 \times 10^{11}$, $B = 1 \times 10$ e $n = 11$, quanto tempo se passou entre a primeira e a última observação?

- a) 1h.
- b) 2h.
- c) 3h.
- d) 4h.
- e) 5h.

QUESTÃO 17: Um carro estava abastecido com um quinto de seu tanque. O motorista parou em um posto de gasolina e completou o tanque pagando R\$ 360,00. Se a capacidade do tanque é 60 litros, quanto custou cada litro de gasolina?

- a) R\$ 6,70
- b) R\$ 6,90
- c) R\$ 7,10
- d) R\$ 7,30
- e) R\$ 7,50

QUESTÃO 18: Considere as seguintes afirmações:

p: Um robô não pode ferir um humano;

q: Um robô deve proteger sua existência.

Podemos concluir que a afirmação ***p*** é equivalente a qual das proposições a seguir?

- a) Um robô não pode ferir um humano ou um robô deve proteger sua existência.
- b) Um robô não pode ferir um humano e (um robô deve proteger sua existência ou um robô não pode ferir um humano).
- c) Um robô não pode ferir um humano e um robô deve proteger sua existência.
- d) Um robô deve proteger sua existência e (um robô não pode ferir um humano ou um robô deve proteger sua existência).
- e) Um robô deve proteger sua existência.

QUESTÃO 19: A expressão mais famosa da física moderna, $E = mc^2$ foi elaborada pelo físico alemão Albert Einstein. Ela determina a relação de transformação de massa de um corpo em energia e vice-versa. Sabendo que c representa a constante da velocidade da luz no vácuo, m a massa de um corpo e E a energia, considere a seguinte situação: Um objeto A possui massa m_1 e um objeto B possui massa m_2 que é 25% maior que m_1 . Se $E_1 = m_1c^2$ e $E_2 = m_2c^2$, então:

- a) $E_2 = \frac{5}{4}E_1$
- b) $E_2 = \frac{6}{5}E_1$
- c) $E_2 = \frac{4}{3}E_1$
- d) $E_2 = \frac{3}{2}E_1$
- e) $E_2 = \frac{7}{6}E_1$

QUESTÃO 20: Somando a quinta parte com a metade de um número racional, temos como resultado o próprio número racional somado de 2. Qual é esse número?

- a) $3/20$
- b) $-3/20$
- c) $20/3$
- d) $-20/3$
- e) $-3/2$

NOÇÕES DE INFORMÁTICA

QUESTÃO 21: Sobre proteção e segurança de arquivos e programas de computador, analise as afirmações a seguir:

- I. Não existe problema em abrir arquivos enviados por pessoas desconhecidas.
- II. Arquivos do tipo executável podem instalar vírus no computador.
- III. Passar um programa antivírus rotineiramente pode proteger o computador.

Está correto o contido apenas em:

- a) I.
- b) II.
- c) I e II.
- d) I e III.
- e) II e III.

QUESTÃO 22: São elementos de um e-mail, exceto:

- a) Destinatário.
- b) Assunto.
- c) Remetente.
- d) Título.
- e) Corpo do texto.

QUESTÃO 23: A sigla URL (*Uniform Resource Locator*) representa:

- a) Endereço para validação do emitente do e-mail.
- b) Sigla para Rede Universal Livre de vírus.
- c) Endereço virtual de uma página na Internet.
- d) Interface uniforme para localizar recurso.
- e) Ferramenta empregada para limpar dados resultantes da navegação em *sites* pela internet.

QUESTÃO 24: Atalhos de teclado são combinações de teclas que podem tornar o uso do computador mais dinâmico na internet. Qual opção abaixo representa a combinação de teclas para abrir uma nova aba?

- a) Ctrl+T
- b) Ctrl+N
- c) Ctrl+Shift+N
- d) Ctrl+Shift+T
- e) Ctrl + A

QUESTÃO 25: Considere a seguinte planilha eletrônica:

	A	B	C
1	4	5	5
2	1	1	1
3	3	3	3
4			

Marque a baixo a opção que apresenta o valor correto para o resultado da seguinte fórmula:

$$=(\text{SOMA}(\text{B1:B3}) - \text{A1}) / \text{A2}$$

- a) 2
- b) 3
- c) 5
- d) 7
- e) 9

**LEGISLAÇÃO APLICADA AO
SERVIÇO PÚBLICO FEDERAL**

QUESTÃO 26: O Decreto Nº 7.602, de 7 de novembro de 2011, dispõe sobre a Política Nacional de Segurança e Saúde no Trabalho, que não menciona o princípio:

- a) Diálogo social.
- b) Universalidade.
- c) Resolutividade.
- d) Prevenção.
- e) Integralidade.

QUESTÃO 27: De acordo com o disposto na Lei n.º 8.112/1990, na hipótese de inassiduidade habitual, a penalidade disciplinar a ser aplicada ao servidor público é de:

- a) suspensão de até 30 dias.
- b) multa.
- c) suspensão de até 15 dias.
- d) demissão.
- e) advertência.

QUESTÃO 28: A hipótese de a Administração proceder, de ofício, à exoneração de servidor público ocupante de cargo efetivo:

- a) ocorre, por exemplo, quando, tendo tomado posse, o servidor não entrar em exercício no prazo estabelecido.
- b) ocorre, por exemplo, como consequência da prática de infração de natureza grave pelo servidor, mesmo já gozando de estabilidade.
- c) não está acolhida pela Lei, havendo apenas a previsão da exoneração a pedido do servidor.
- d) ocorre, por exemplo, quando, tendo sido nomeado, o servidor não tomar posse no prazo estabelecido.

e) ocorre, por exemplo, quando, tendo sido aprovado em concurso público, o servidor não for nomeado no prazo estabelecido.

QUESTÃO 29: A Lei nº 11.091, de 12 de janeiro de 2005, dispõe sobre a estruturação do Plano de Carreira dos Cargos Técnico-Administrativos em Educação, no âmbito das Instituições Federais de Ensino vinculadas ao Ministério da Educação, e dá outras providências. Conforme essa Lei, caberá à Instituição de Ensino Superior avaliar anualmente a adequação do quadro de pessoal às suas necessidades, propondo ao Ministério da Educação, se for o caso, o seu redimensionamento, consideradas, entre outras, as seguintes variáveis:

- a) I – proporção entre os quantitativos da força de trabalho do Plano de Carreira e usuários; II – inovações tecnológicas; III – modernização dos processos de trabalho no âmbito da Instituição, somente.
- b) I – demandas institucionais; II – proporção entre os quantitativos da força de trabalho do Plano de Carreira e usuários; e III – modernização dos processos de trabalho no âmbito da Instituição, somente.
- c) I – demandas institucionais; II – inovações tecnológicas; e III – modernização dos processos de trabalho no âmbito da Instituição, somente.
- d) I – demandas institucionais; II – proporção entre os quantitativos da força de trabalho do Plano de Carreira e usuários; e III – inovações tecnológicas, somente.
- e) I – demandas institucionais; II – proporção entre os quantitativos da força de trabalho do Plano de Carreira e usuários; III – inovações tecnológicas; e IV – modernização dos processos de trabalho no âmbito da Instituição.

QUESTÃO 30: A filosofia adotada pelo SEI! é a de *transparência administrativa*, mas permite que se atribua restrições no acesso a processos e documentos em casos específicos. Com base nesta afirmação assinale a alternativa correta:

- a) Público: processos e documentos assinados que não possuem dados pessoais ou restrição legal de acesso, disponíveis para visualização de qualquer usuário externo do sistema.
- b) Restrito: apenas processos disponíveis para visualização de usuários das unidades pelas quais o processo tramitar.
- c) Sigiloso: processos e seus documentos disponíveis apenas para usuários com permissão nas unidades pelas quais o processo tramitar.
- d) Público: processos e documentos assinados que possuem dados pessoais ou restrição legal de acesso, disponíveis para visualização de qualquer usuário externo do sistema.
- e) Sigiloso: processos e seus documentos disponíveis apenas para usuários com permissão específica e previamente credenciados.

CONHECIMENTOS ESPECÍFICOS

QUESTÃO 31: A Hipoglicemia é uma das complicações agudas do *Diabetes Mellitus*, caracterizada pela diminuição dos níveis glicêmicos para valores abaixo de 70 mg/dL (AMERICAN DIABETES ASSOCIATION, 2013). Dentre os sintomas clínicos que, usualmente, ocorrem em quadros de hipoglicemia estão:

- a) taquicardia, sudorese, tontura e confusão mental.
- b) bradicardia, angina, boca seca e sede intensa.
- c) taquicardia, falta de apetite, perda do controle esfinteriano e sudorese.
- d) convulsão, liberação esfinteriana, bradicardia e tremores.
- e) bradicardia, calafrios, pele fria, hipertermia e sede.

QUESTÃO 32: Considerando a relevância do uso de terminologia técnica nos registros de enfermagem, assinale a alternativa incorreta sobre os problemas associados às alterações na micção:

- a) urgência miccional – Forte desejo de urinar.
- b) disúria – Micção dolorosa ou difícil.
- c) nictúria – Micção de coloração escura.
- d) hematúria – Eritrócitos na urina.
- e) proteinúria – Quantidades anormais de proteína na urina.

QUESTÃO 33: Na assistência de enfermagem a pacientes com doenças infectocontagiosas umas das ações indispensáveis é a atenção quanto às normas e procedimentos que devem ser adotados como precaução em cada tipo de isolamento. Quanto às precauções por tipo de transmissão, assinale a alternativa correta:

- a) as precauções de contato exigem quarto privativo e são utilizadas em caso de doenças como difteria, escarlatina e herpes simplex.
- b) as precauções para gotículas exigem o uso de máscara N95 ou PFF2 e quarto privativo.
- c) as precauções para aerossóis exigem o uso de máscara cirúrgica, tanto pelo profissional de saúde quanto pelo paciente.
- d) as precauções para gotículas são indicadas em casos de doenças que são transmitidas por gotículas (gotas maiores que 5 micra), como rubéola, coqueluche e caxumba.
- e) as precauções para gotículas exigem o uso de avental e luvas.

QUESTÃO 34: Um paciente adulto internado na Unidade de Terapia Intensiva devido a um politrauma apresenta pressão arterial 180 x 110 mmHg, pulso de 145 batimentos por minuto, frequência respiratória de 35 respirações por minuto e temperatura 39 °C. Os termos técnicos adequados para descrever os dados que o paciente apresenta são, respectivamente:

- a) hipotensão, bradicardia; bradipneia e febre.
- b) hipertensão, taquicardia; taquipneia e febre.
- c) hipertensão; bradicardia; bradipneia e febre.
- d) hipertensão; taquicardia; dispneia e febre.
- e) hipotensão; taquicardia; apneia e febre.

QUESTÃO 35: A realização do balanço hídrico é fundamental para o acompanhamento do paciente hospitalizado na terapia intensiva. Analise o caso clínico abaixo:

Paciente sedado em alimentação, por dieta enteral a 35 mL/h, em uso de catéter venoso central em subclávia esquerda, recebendo: morfina a 15 mL/h, SF 0,9% de 1000 mL a 42 gts/min, diurese em uso de sonda vesical de

demora, com drenagem nas últimas 6h de 500 mL, dreno de tórax com drenagem nas últimas 6h, de 200 mL.

Após a realização do cálculo, o técnico de enfermagem classificou o balanço hídrico de 6 horas em:

- a) +350 mL.
- b) – 350 mL.
- c) – 170 mL.
- d) +356 mL.
- e) – 356 mL.

QUESTÃO 36: O rótulo dos produtos para saúde processados deve se manter legível e afixado nas embalagens durante a esterilização, o transporte, o armazenamento, a distribuição e até o momento do uso (ANVISA, 2012). Analise o rótulo do pacote abaixo que foi submetido a esterilização e julgue os itens

Kit de sondagem vesical
Lote: 5UAC
Data de esterilização: 21/08/2022

- a) o rótulo está correto e completo, e o material pode ser utilizado com segurança.
- b) no rótulo a apresentação do método de esterilização, não necessita ser apresentado.
- c) no rótulo a identificação do número do lote não é informação necessária ser apresentada
- d) ao invés da data de esterilização deve ser apresentada a data limite de uso para o pacote.
- e) o rótulo está incompleto, pois não contém a data limite de uso e o método de esterilização.

QUESTÃO 37: A correta higienização das mãos dos profissionais da saúde tem um papel crucial na garantia da segurança do paciente, e faz parte das precauções padrão. Com relação à higienização das mãos, julgue as afirmativas a seguir como verdadeiras (V) ou falsas (F):

() O uso regular de luvas dispensa a higienização das mãos após contatos que envolvam mucosas, sangue ou outros fluidos corpóreos, secreções ou excreções.

() A eficácia da higienização simples das mãos com água e sabonete depende da técnica utilizada e do tempo gasto no procedimento.

() No processo de fricção antisséptica das mãos com preparação alcoólica, o enxágue deverá ser realizado com água corrente no sentido das mãos para cotovelos, retirando todo o resíduo do produto.

() A microbiota residente coloniza a camada mais profunda da pele das mãos, sobrevive por um curto período e é passível de remoção com antisséptico alcoólico.

Assinale a alternativa que apresenta a sequência correta, de cima para baixo:

- a) V – V – F – F.
- b) F – F – V – V.
- c) F – V – F – F.
- d) F – V – V – V.
- e) V – F – F – V.

QUESTÃO 38: Foi prescrita a infusão de 500 mL de Soro Glicosado 5%, uma ampola de Dipirona (2 mL) e 2 mg de Dexametasona (4 mg/mL) para um idoso na unidade de saúde. Com o ajuste de 42 gotas/minuto, o tempo em que esse volume será infundido é de aproximadamente:

- a) 30 minutos.
- b) 120 minutos.
- c) 239 minutos.
- d) 150 minutos.
- e) 40 minutos.

QUESTÃO 39: Considerando o cálculo de gotejamento, assinale a alternativa que contenha a quantidade de gotas que deverão correr em 1 minuto, para administrar 1000 mL de Soro Glicosado 5%, de 4 em 4 horas?

- a) 94 gotas.
- b) 72 gotas.
- c) 83 gotas.
- d) 61 gotas.
- e) 55 gotas.

QUESTÃO 40: Quanto às vias de administração de medicamentos, assinale a alternativa que apresenta apenas vias parenterais:

- a) intravenosa, intramuscular, retal e intradérmica.
- b) sublingual, intramuscular, subcutânea e inalatória.
- c) intradérmica, intraocular, inalatória e retal.
- d) intravenosa, intramuscular, subcutânea e intradérmica.
- e) subcutânea, oral, tópica e retal.

QUESTÃO 41: A Lei nº 8.080, de 19 de setembro de 1990, dispõe sobre as condições para a promoção, proteção e recuperação da saúde, a organização e o funcionamento dos serviços correspondentes e dá outras providências. Com base nessa Lei, todas as afirmativas abaixo estão corretas, exceto:

- a) a saúde é um direito fundamental do ser humano, devendo o Estado prover as condições indispensáveis ao seu pleno exercício.
- b) a iniciativa privada poderá participar do Sistema Único de Saúde (SUS), em caráter complementar.
- c) a identificação e divulgação dos fatores condicionantes e determinantes da saúde é um dos objetivos do SUS.

d) as Conferências de Saúde e os Conselhos de Saúde terão sua organização e normas de funcionamento definidas pelo Ministério da Saúde.

e) as ações e serviços de saúde, executados pelo Sistema Único de Saúde (SUS), serão organizados de forma regionalizada e hierarquizada, em níveis de complexidade crescente.

QUESTÃO 42: A Vigilância das Coberturas Vacinais (VCV) é um conjunto de ações que compreende o monitoramento, a avaliação, a investigação dos determinantes ou fatores de risco de transmissão de doenças imunopreveníveis em determinada população-alvo. São objetivos da VCV, exceto:

- a) coletar e registrar os dados de vacinação.
- b) recomendar medidas de vacinação.
- c) promover ações de vacinação indicadas.
- d) divulgar as informações a respeito da situação vacinal.
- e) realizar capacitações técnicas para as equipes de vacinação.

QUESTÃO 43: A gravidade das infrações previstas na Resolução do Conselho Federal de Enfermagem Nº 564/2017 dependem da natureza do ato e da circunstância de cada caso. São consideradas

- a) infrações leves, as que provocam a debilidade permanente de membro, sentido ou função na pessoa; morte, dano moral irremediável na pessoa, e ainda as que causam danos financeiros, mentais, morais ou patrimoniais.
- b) infrações moderadas, as que provocam debilidade temporária de membro, sentido ou função na pessoa, ou ainda as que causem danos mentais, morais, patrimoniais ou financeiros.
- c) infrações graves, as que ofendem a integridade física, mental ou moral de qualquer

pessoa, sem causar debilidade ou aquelas que venham a difamar organizações da categoria ou instituições.

d) infrações gravíssimas, as que provocam perigo de morte, debilidade permanente de membro, sentido ou função, e ainda as que causam danos patrimoniais, mentais, financeiros ou morais.

e) infrações leves, as que provocam a debilidade temporária, sentido, função ou que causem danos patrimoniais, mentais, financeiros ou morais à pessoa e ainda aquelas que venham a difamar organizações da categoria ou instituições.

QUESTÃO 44: O profissional de Enfermagem atua com autonomia e em consonância com os preceitos éticos e legais, técnico-científico e teórico-filosófico. De acordo com o Código de Ética dos Profissionais de Enfermagem (Resolução COFEN 564/2017), é considerada uma proibição no exercício profissional:

- a) abster-se de revelar informações confidenciais de que tenha conhecimento em razão de seu exercício profissional.
- b) permitir que seu nome conste no quadro de pessoal de qualquer instituição ou estabelecimento congênere, quando, nestas, não exercer funções de enfermagem estabelecidas na legislação.
- c) negar-se a ser filmado, fotografado ou exposto em mídias sociais durante o desempenho de suas atividades profissionais.
- d) anunciar a prestação de serviços para as quais detenha habilidades e competências técnico-científicas e legais.
- e) recusar-se a executar prescrição de Enfermagem e Médica na qual não constem assinatura e número de registro do profissional

prescritor, exceto em situação de urgência e emergência.

QUESTÃO 45: Considerando a Lei nº 7.498, de 25 de junho de 1986, que dispõe sobre a regulamentação do exercício da enfermagem e dá outras providências, é correto afirmar:

- a) a enfermagem só pode ser exercida por pessoas legalmente habilitadas e inscritas no Conselho Regional de Enfermagem, com jurisdição em todo o território nacional.
- b) o Técnico de Enfermagem pode executar todas as ações assistenciais de enfermagem.
- c) observar, reconhecer e descrever sinais e sintomas são atividades privativas do profissional Enfermeiro.
- d) recomenda-se que as atividades desempenhadas pelo Técnico de Enfermagem e pelo Auxiliar de Enfermagem, em instituições de saúde, sejam orientadas e supervisionadas pelo profissional Enfermeiro.
- e) a enfermagem é exercida privativamente pelo Enfermeiro, pelo Técnico de Enfermagem, pelo Auxiliar de Enfermagem e pela Parteira, respeitados os respectivos graus de habilitação.

QUESTÃO 46: Conforme a Portaria nº 2.436, de 21 de setembro de 2017, que aprova a Política Nacional de Atenção Básica (PNAB), são corretas todas as alternativas a seguir, exceto:

- a) a PNAB tem na Saúde da Família sua estratégia prioritária para expansão e consolidação da Atenção Básica.
- b) serão reconhecidas outras estratégias de Atenção Básica, desde que observados os princípios e as diretrizes previstos na referida portaria e tenham caráter transitório.
- c) a dissociação entre a Vigilância em Saúde e Atenção Básica é condição essencial para o

alcanço de resultados que atendam às necessidades de saúde da população.

- d) Atenção Básica será ofertada integral e gratuitamente a todas as pessoas, de acordo com suas necessidades e demandas do território.
- e) a PNAB considera os termos Atenção Básica (AB) e Atenção Primária à Saúde (APS), nas atuais concepções, como termos equivalentes.

QUESTÃO 47: Considerando o Calendário Nacional de Vacinação 2022 para a Criança, do Ministério da Saúde, todas as afirmativas abaixo estão corretas, exceto:

- a) a vacina contra hepatite B deve ser administrada nas primeiras 24 horas, preferencialmente nas primeiras 12 horas de vida, ainda na maternidade.
- b) o esquema da vacina contra febre amarela é composto por uma dose aos 9 meses de idade e um reforço aos 15 meses de idade.
- c) se a criança regurgitar, cuspir ou vomitar após a vacinação contra o rotavírus humano, não se deve repetir a dose. Nestes casos, considera-se a dose válida.
- d) crianças que não apresentarem cicatriz vacinal após receberem a dose da vacina BCG não precisam ser revacinadas.
- e) o esquema da vacina meningocócica C (conjugada) é composto por: 1ª dose aos 3 meses de idade; 2ª dose aos 5 meses; e reforço aos 12 meses.

QUESTÃO 48: As ocorrências de morte materna, fetal e infantil estão, em grande parte, relacionadas a complicações das morbidades preexistentes ou identificadas durante a gestação. A equipe de saúde deve estar atenta e pronta para identificar precocemente os sinais e sintomas dessas complicações. As principais

intercorrências são listadas nas assertivas que seguem, exceto:

- a) síndromes hemorrágicas.
- b) sinais e sintomas de abortamento em curso ou inevitável.
- c) PAS ≥ 140 mmHg ou PAD ≥ 90 mmHg, escotomas visuais, diplopia, cefaleia, epigastralgia.
- d) hiperêmese gravídica: vômitos incoercíveis, sem melhora com tratamento oral e desidratação.
- e) dor abdominal intensa/abdome agudo em gestante.

QUESTÃO 49: De acordo com Manual Técnico de Triagem Neonatal Biológica do Ministério da Saúde, de 2016, analise as afirmativas a seguir.

I. Recomenda-se que o período ideal de coleta da primeira amostra de sangue esteja compreendido entre o 3º e o 5º dia de vida do bebê.

II. Após a punção em uma das laterais da região plantar do recém-nascido, é necessário que a gota de sangue atravesse (seja absorvida) pela camada do papel-filtro até que todo o círculo esteja preenchido com sangue de forma homogênea.

III. Recém-nascidos pré-termos têm volume de sangue pequeno e as punções de calcanhar devem ser evitadas, sendo recomendada a coleta de sangue venoso periférico, não utilizando linhas venosas de infusão de medicamentos ou nutrição parenteral.

- a) as alternativas I e II estão corretas.
- b) as alternativas II e III estão corretas.
- c) as alternativas I e III estão corretas.
- d) apenas a alternativa I está correta.
- e) as alternativas I, II e III estão corretas.

QUESTÃO 50: Assinale a alternativa que apresenta vacinas indicadas e necessárias durante a gestação, de acordo com Programa Nacional de Imunização, Calendário Vacinal para Gestante de 2022.

- a) hepatite B, dupla adulto e dTpa.
- b) tríplice viral, dTpa e BCG.
- c) hepatite B, tríplice viral e dupla adulto.
- d) tetra viral, meningocócica C e hepatite B.
- e) febre amarela; meningocócica C e hepatite B.